

आधार पत्र

कक्षा 3

विषय – पर्यावरण अध्ययन

1. अधिगम क्षेत्र/आकलन सूचक के आधार पर प्रश्न संख्या

क्र. सं.	अधिगम क्षेत्र/कौशल	प्रश्नों के प्रकार				प्रश्न योग	प्रश्नों का प्रतिशत
		OT	VSA	SA	ET		
1	अवलोकन एवं दर्ज करना	1	2			3	16.66 प्रतिशत
2	सम्प्रेषण कौशल (अभिव्यक्ति)		2			2	11.11 प्रतिशत
3	वर्गीकरण करना	1	1	2	1	5	21.77 प्रतिशत
4	व्याख्या करना	2		1		3	16.66 प्रतिशत
5	प्रश्न करना			1		1	5.55 प्रतिशत
6	प्रयोग करना			1		1	5.55 प्रतिशत
7	न्याय व समता के प्रति सरोकार	1	1			2	11.11 प्रतिशत
8	एक दूसरे के गुणों का सम्मान एवं प्रशंसा करना	1				1	5.55 प्रतिशत
	योग	6	6	5	1	18	100 प्रतिशत

थीम/घटक/पाठ के आधार पर प्रश्न संख्या

कक्षा : तीसरी

विषय : पर्यावरण अध्ययन

टर्म	विषयवस्तु (पाठ संख्या)	थीम/घटक/पाठ का नाम	प्रश्नों के प्रकार				प्रश्न योग
			OT	VSA	SA	ET	
	1	रिश्ते-नाते		1			1
	4	स्वच्छता की आदत	1	1	1		3
	5	हरी-हरी पत्तियाँ	2				2
	6	देखो, जंगल अजब निराला	1	1			2
	8	जल ही जीवन का आधार			1		1
	9	भोजन में विविधता		1	1		2
	11	भोजन संबंधी अच्छी आदतें		1			1
	12	हमारे गौरव-1 – नागार्जुन, महात्मा गाँधी, बिरसा मुंडा					
	13	त्योहार, पर्व, और जयंती	1				1
	14	आओ मेरे घर			1		1
	18	अलग-अलग हैं सबका काम			1		1
	19	यातायात के साधन	1	1		1	3
			6	6	5	1	18

सतत् एवं व्यापक मुल्यांकन

वार्षिक योगात्मक आकलन लिखित परीक्षा नमुना प्रश्न पत्रक

सत्र 2020-21

कक्षा : 3

विषय : पर्यावरण अध्ययन

समय : 2 घण्टा

- निर्देश:-1. यह वार्षिक योगात्मक आकलन मॉडल प्रश्न पत्रक सत्र 2020-21 के लिए संशोधित पाठ्यक्रम पर आधारित है।
2. प्रश्न पत्र में अधिगम क्षेत्रवार ग्रेड A,B,C दी जाए जिसमें A= अपेक्षित स्तर की समझ/दक्षता होना, B= मध्यम स्तर की समझ/दक्षता होना व C= आरम्भिक स्तर की समझ/दक्षता होना

नाम विद्यार्थी रोल नं.
दिनांक

अधिगम क्षेत्र : अवलोकन एवं दर्ज करना औसत ग्रेड :



प्रश्न 1. चित्र में कौनसा फल दिखाई दे रहा है:-

(अ) चीकू (ब) अनार (स) सेब (द) आम ()

प्रश्न 2. आपकी माताजी की बहिन आपके क्या लगती है?

.....

प्रश्न 3. दिए गए चित्र में पक्षी का नाम और रंग पहचान कर लिखिए



नाम रंग

अधिगम क्षेत्र : सम्प्रेषण कौशल (अभिव्यक्ति) औसत ग्रेड :

प्रश्न 4. आपको अपनी कक्षा की सजावट करनी हो तो कैसे करेंगे?

.....
.....
.....

प्रश्न 5. यदि आपको एक दिन अपने परिवार के लिए खाना बनवाना हो तो क्या-क्या बनवाओगे?

.....
.....
.....

अधिगम क्षेत्र : वर्गीकरण करना औसत ग्रेड :

प्रश्न 6. किस साधन में अधिक सवारियाँ बिटाई जा सकती है:-

(अ) आटो (ब) जीप (स) कार (द) बस ()

प्रश्न 7. खाने की तीन-तीन चीजों के नाम लिखिए जो आपको पसन्द है, और पसन्द नहीं है।

मुझे पसन्द है	मुझे पसन्द नहीं है
1.	1.
2.	2.
3.	3.

प्रश्न 8. जमीन और पानी में पाए जाने वाले दो-दो जानवरों के नाम लिखिए?

(1) जमीन पर पाये जाने वाले जानवर के नाम

(1) (2)

(2) पानी में पाये जाने वाले जानवर के नाम

(1) (2)

प्रश्न 9. आपके साथी अथवा पड़ोस में भोजन किस-किस प्रकार के चूल्हों पर पकाया जाता है?

.....
.....
.....

प्रश्न 10. निम्नांकित तालिका में वाहनों के पहिये की संख्या बताइए।

क्र. सं.	वाहन	पहियों की संख्या
1	स्कूटर	
2	बस	

अधिगम क्षेत्र : व्याख्या करना

औसत ग्रेड :

प्रश्न 11. जमीन के अन्दर पौधे का कौनसा भाग होता है:-

(अ) तना (ब) जड़ (स) पत्ती (द) फूल ()

प्रश्न 12. रेगिस्तान का जहाज कहा जाता है:-

(अ) शेर (ब) ऊँट (स) चीता (द) घोड़ा ()

प्रश्न 13. आपके घर में कौन-कौनसे अनाज खाए जाते हैं? लिखिए।

.....
.....
.....

अधिगम क्षेत्र : प्रश्न करना

औसत ग्रेड :

प्रश्न 14. यदि आपके गाँव में गाड़ोलिया लुहार आए तो उनसे आप क्या प्रश्न पूछेंगे। कोई एक लिखिए।

(1)
.....

अधिगम क्षेत्र : प्रयोग करना

औसत ग्रेड :

प्रश्न 15. कपड़े धोने की विधि को क्रम में लिखिए।

.....
.....

अधिगम क्षेत्र : न्याय एवं समता के प्रति सरोकार

औसत ग्रेड :

प्रश्न 16. हमारे राष्ट्रीय ध्वज में कितने रंग हैं:-

(अ) 2 (ब) 3 (स) 5 (द) 7 ()

प्रश्न 17. हमें सड़क पर किस तरफ चलना चाहिए?

.....

अधिगम क्षेत्र : एक दूसरे के कार्यों का सम्मान एवं गुणों
की प्रशंसा करना

औसत ग्रेड :

प्रश्न 18. घर में साफ सफाई की जिम्मेदारी किसकी होती है:-

(अ) माताजी (ब) बहिन (स) पिताजी (द) सभी ()

Sample paper

सतत् एवं व्यापक मुल्यांकन

वार्षिक योगात्मक आकलन लिखित परीक्षा नमुना प्रश्न पत्रक

सत्र 2020-21

कक्षा : 3

विषय : पर्यावरण अध्ययन


समय : 2 घण्टा

- निर्देश:-1. यह वार्षिक योगात्मक आकलन मॉडल प्रश्न पत्रक सत्र 2020-21 के लिए संशोधित पाठ्यक्रम पर आधारित है।
2. प्रश्न पत्र में अधिगम क्षेत्रवार ग्रेड A,B,C दी जाए जिसमें A= अपेक्षित स्तर की समझ/दक्षता होना, B= मध्यम स्तर की समझ/दक्षता होना व C= आरम्भिक स्तर की समझ/दक्षता होना

नाम विद्यार्थी रोल नं.
दिनांक

अधिगम क्षेत्र : अवलोकन एवं दर्ज करना औसत ग्रेड :

प्रश्न 1. निम्न में से कौनसा जानवर पानी में नहीं रहता है:-



प्रश्न 2. आपकी माँ की माँ आपकी लगती है-

(अ) नानीजी (ब) मामीजी (स) दादीजी (द) चाचीजी ()

प्रश्न 3. कौनसा जानवर रेगिस्तान का जहाज कहलाता है?

.....

प्रश्न 4. मक्का राजस्थान में मुख्यता कहां बोया जाता है?

.....

अधिगम क्षेत्र : सम्प्रेषण कौशल (अभिव्यक्ति)

औसत ग्रेड :

प्रश्न 5. निम्न में से कौनसा पर्व/त्योहार विद्यालय में मनाया जाता है।

- (अ) 26 जनवरी स्वतंत्रता दिवस (ब) दीपावली
(स) होली (द) दशहरा ()

प्रश्न 6. दिशाएं कितनी होती है। नाम बताइए

.....

प्रश्न 7. आपके घर में कौनसा अनाज खाया जाता है?

.....

अधिगम क्षेत्र : वर्गीकरण करना

औसत ग्रेड :

प्रश्न 8. जल के प्रमुख स्रोत निम्न में से कौन-कौन से हैं?

- (अ) तालाब (ब) कृएं (स) बावड़ी/नदी (द) उपरोक्त सभी ()

प्रश्न 9. बीमार व्यक्ति को दिखाने के लिए हम उसे किसके पास ले जायेगे-

.....

प्रश्न 10. निम्न कार्यों को करने वाले व्यक्तियों से मिलान करिये-

- (1) कपड़े सिलने वाला खाती
(2) खेती का काम करने वाला दर्जी
(3) लकड़ी का काम करने वाला किसान

प्रश्न 11. सर्वाहारी जन्तु किसे कहते हैं?

.....

.....

अधिगम क्षेत्र : व्याख्या करना

औसत ग्रेड :

प्रश्न 12. भोजन करते समय हमें जिन बातों का ध्यान रखना चाहिये वे हैं:-

(अ) तेज-तेज बात करना चाहिये

(ब) छोटे-छोटे कौर लेना चाहिये

(स) झूठा छोड़ना

(द) खाने से पहले हाथ नहीं धोना

()

प्रश्न 13. आपके घर में पानी किस-किस में भरकर रखा जाता है-

.....

प्रश्न 14. पेड़-पौधों को पानी की आवश्यकता क्यों होती है?

.....

अधिगम क्षेत्र : प्रश्न करना

औसत ग्रेड :

प्रश्न 15. यातायात के विभिन्न साधनों के नाम लिखिए-

.....

.....

अधिगम क्षेत्र : प्रयोग करना

औसत ग्रेड :

प्रश्न 16. जल के विभिन्न उपयोग को चित्र के माध्यम से बताइये तथा उसमें रंग भरिये।

.....

.....

अधिगम क्षेत्र : न्याय एवं समता के प्रति सरोकार

औसत ग्रेड :

प्रश्न 17. हम अपने माता पिता की मदद कर सकते हैं—

(अ) उनके कामों में हाथ बंटाकर। (ब) काम को अनसुना करके।

(स) कही भी भागकर चले जाना। (द) भाई बहनों से झगड़ा करके। ()

प्रश्न 18. राष्ट्रपिता के नाम से किसे जाना जाता है?

.....

अधिगम क्षेत्र : एक दूसरे के कार्यों का सम्मान एवं गुणों की प्रशंसा करना

औसत ग्रेड :

प्रश्न 19. सड़क पर हमें हमेशा अपनी तरफ चलना चाहिये।

प्रश्न 20. सड़क सुरक्षा के नियमों का पालन हमें किस प्रकार करना चाहिये।

.....

.....

सतत् एवं व्यापक मुल्यांकन

वार्षिक योगात्मक आकलन लिखित परीक्षा नमुना प्रश्न पत्रक

सत्र 2020-21

कक्षा : 3

विषय : पर्यावरण अध्ययन

समय : 2 घण्टा

निर्देश:-1. यह वार्षिक योगात्मक आकलन मॉडल प्रश्न पत्रक सत्र 2020-21 के लिए संशोधित पाठ्यक्रम पर आधारित है।
2. प्रश्न पत्र में अधिगम क्षेत्रवार ग्रेड A,B,C दी जाए जिसमें A= अपेक्षित स्तर की समझ/दक्षता होना, B= मध्यम स्तर की समझ/दक्षता होना व C= आरम्भिक स्तर की समझ/दक्षता होना

नाम विद्यार्थी रोल नं.
दिनांक

अधिगम क्षेत्र : अवलोकन एवं दर्ज करना औसत ग्रेड :

प्रश्न 1. निम्न में से जंगली जानवर का नाम का क्रमाक्षर कोष्ठक में लिखिए:-

(अ) गाय (ब) शेर (स) भैंस (द) बकरी ()

प्रश्न 2. निम्न में से पौधे का जमीन में प्राये जाने वाले भाग का क्रमाक्षर कोष्ठक में लिखिए-

(अ) तना (ब) जड़ (स) पत्ती (द) फूल ()

अधिगम क्षेत्र : सम्प्रेषण कौशल (अभिव्यक्ति) औसत ग्रेड :

प्रश्न 3. निम्न में से राष्ट्रीय त्योहार का क्रमाक्षर कोष्ठक में लिखिए-

(अ) रक्षाबन्धन (ब) दशहरा (स) गणतंत्र दिवस (26 जनवरी) (द) दीपावली ()

प्रश्न 4. दाँतों की सफाई कब करनी चाहिए

(अ) सुबह-शाम (ब) दोपहर (स) प्रति रविवार (द) इनमें से कोई नहीं ()

- आप में भोजन सम्बन्धी कौनसी आदतें हैं सामने कोष्ठक में सही का निशान लगाओ-

प्रश्न 5. खाने (भोजन) से पहले साबुन से हाथ धोना। ()

प्रश्न 6. झूठा नहीं छोड़ना। ()

अधिगम क्षेत्र : वर्गीकरण करना	औसत ग्रेड :
-------------------------------	-------------

नीचे दिये गये कार्यों एवं इनके करने वालों का मिलान करें—

7.	पढ़ाने का काम	मिस्त्री
8.	स्कूटर ठीक करने का काम करने वाला	किसान
9.	खेती का काम करने वाला	डॉक्टर
10.	बीमारी का इलाज करने वाला	अध्यापक

अधिगम क्षेत्र : व्याख्या करना	औसत ग्रेड :
-------------------------------	-------------

प्रश्न 11. कपड़े सिलाई का काम कौन करता है सही उत्तर का क्रमाक्षर कोष्ठक में लिखिए—

- (अ) अध्यापक (ब) डॉक्टर
(स) दर्जी (टेलर) (द) किसान ()

प्रश्न 12. स्वच्छता के लिए घर में होना आवश्यक है, उसका क्रमाक्षर कोष्ठक में लिखिए—

- (अ) रसोईघर (ब) शौचालय
(स) अतिथि गृह (द) आँगन ()

प्रश्न 13. गेहूँ, चावल व बाजरे से क्या-क्या खाने का सामान बनता है? कोई दो के नाम लिखो—

1. 2.

अधिगम क्षेत्र : प्रश्न करना	औसत ग्रेड :
-----------------------------	-------------

प्रश्न 14. कोई दो त्योहारों के नाम लिखो—

1. 2.

प्रश्न 15. कोई दो यातायात के साधनों के नाम लिखो—

1. 2.

प्रश्न 16. आप अपने घर के कोई दो भागों (कक्षों) के नाम लिखिए—

1. 2.

अधिगम क्षेत्र : प्रयोग करना

औसत ग्रेड :

प्रश्न 17. एक पौधे का चित्र बनाकर इसके विभिन्न भागों को प्रदर्शित करिये।

अधिगम क्षेत्र : न्याय एवं समता के प्रति सरोकार

औसत ग्रेड :

अधिगम क्षेत्र : एक दूसरे के कार्यों का सम्मान एवं गुणों की प्रशंसा करना

औसत ग्रेड :

प्रश्न 18. निम्न में से कोई भी एक प्रश्न का उत्तर 4-5 वाक्यों में लिखिए-

- आप अपने घर के कौन-कौन से कार्यों में हाथ बँटाते हैं?

.....

.....

.....

.....

अथवा

- आप अपने विद्यालय में कौन-कौन से सेवा कार्य करते हैं?

.....

.....

.....

.....

सतत् एवं व्यापक मुल्यांकन

वार्षिक योगात्मक आकलन लिखित परीक्षा नमुना प्रश्न पत्रक

सत्र 2020-21

कक्षा : 3

विषय : पर्यावरण अध्ययन

समय : 2 घण्टा

निर्देश:-1. यह वार्षिक योगात्मक आकलन मॉडल प्रश्न पत्रक सत्र 2020-21 के लिए संशोधित पाठ्यक्रम पर आधारित है।
2. प्रश्न पत्र में अधिगम क्षेत्रवार ग्रेड A,B,C दी जाए जिसमें A= अपेक्षित स्तर की समझ/दक्षता होना, B= मध्यम स्तर की समझ/दक्षता होना व C= आरम्भिक स्तर की समझ/दक्षता होना

नाम विद्यार्थी रोल नं.
दिनांक

अधिगम क्षेत्र : अवलोकन एवं दर्ज करना औसत ग्रेड :

प्रश्न 1. निम्न में से सड़क पर चलने वाला साधन है?

- (अ) हवाई जहाज (ब) पानी का जहाज
(स) बस (द) इनमें से कोई नहीं ()

प्रश्न 2. पौधे का सबसे मजबूत एवं मोटा भाग कौनसा होता है? इसका क्रमाक्षर कोष्ठक में अंकित करें-

- (अ) जड़ (ब) फूल
(स) फल (द) तना ()

अधिगम क्षेत्र : सम्प्रेषण कौशल (अभिव्यक्ति) औसत ग्रेड :

प्रश्न 3. एक व्यस्क व्यक्ति के दाँतों की संख्या कितनी होती है?

- (अ) 20 (ब) 12
(स) 32 (द) 4 ()

प्रश्न 4. कौनसे मौसम में पौधे के पत्ते झड़ते हैं?

- (अ) वर्षा (ब) बसन्त
(स) सर्दी (द) गर्मी ()

– आप में भोजन सम्बन्धी कौनसी आदतें हैं सामने कोष्ठक में सही का निशान लगाओ–

प्रश्न 5. खाने के बाद हाथ धोना व कुल्ला करना। ()

प्रश्न 6. छोटे–छोटे कोर लेना। ()

अधिगम क्षेत्र : वर्गीकरण करना औसत ग्रेड :

तालिका देखकर बताओ, आप इन रिश्तों को क्या कहते हैं–

प्रश्न सं.	मेरे/मेरी	सम्बन्ध
7.	पिताजी के पिताजी	
8.	पिताजी के छोटे भाई	
9.	माँ के भाई	
10.	माँ की माताजी	

अधिगम क्षेत्र : व्याख्या करना औसत ग्रेड :

प्रश्न 11. खेती का काम करने वाले को क्या कहते हैं सही क्रमाक्षर कोष्ठक में लिखिए–

(अ) किसान (ब) धोबी
(स) डॉक्टर (द) टेलर ()

प्रश्न 12. सीमेन्ट, चूना, ईटें, रोड़ी से कौनसे मकान बनाये जाते हैं?

(अ) कच्चे मकान (ब) पक्के मकान
(स) घासफूस के मकान (द) इनमें से कोई नहीं ()

प्रश्न 13. कोई दो खाद्य पदार्थों के नाम लिखो

1. 2.

अधिगम क्षेत्र : प्रश्न करना औसत ग्रेड :

प्रश्न 14. दो राष्ट्रीय त्योहारों के नाम लिखो

1. 2.

प्रश्न 15. जल के दो उपयोग लिखिये

1. 2.

प्रश्न 16. यातायात के चार साधनों के नाम लिखिये

1. 2.
3. 4.

अधिगम क्षेत्र : प्रयोग करना

औसत ग्रेड :

प्रश्न 17. राष्ट्रीय ध्वज का चित्र बनाकर रंग भरें

अधिगम क्षेत्र : न्याय एवं समता के प्रति सरोकार

औसत ग्रेड :

अधिगम क्षेत्र : एक दूसरे के कार्यों का सम्मान एवं गुणों की प्रशंसा करना

औसत ग्रेड :

प्रश्न 18. निम्न में से कोई भी एक प्रश्न का उत्तर 4-5 वाक्यों में लिखिए-

- आप अपने गांव में कौन-कौन से सामाजिक कार्य कर सकते हैं?

.....
.....
.....
.....
.....

अथवा

- विद्यालय में आप स्वच्छता सम्बन्धी अच्छी आदतों के विकास के लिए कौन-कौन से कार्य करते हैं?

.....

.....

.....

.....

.....

Sample paper

सतत् एवं व्यापक मुल्यांकन

वार्षिक योगात्मक आकलन लिखित परीक्षा नमुना प्रश्न पत्रक

सत्र 2020-21

कक्षा : 3

विषय : पर्यावरण अध्ययन

समय : 2 घण्टा

- निर्देश:-1. यह वार्षिक योगात्मक आकलन मॉडल प्रश्न पत्रक सत्र 2020-21 के लिए संशोधित पाठ्यक्रम पर आधारित है।
2. प्रश्न पत्र में अधिगम क्षेत्रवार ग्रेड A,B,C दी जाए जिसमें A= अपेक्षित स्तर की समझ/दक्षता होना, B= मध्यम स्तर की समझ/दक्षता होना व C= आरम्भिक स्तर की समझ/दक्षता होना





नाम विद्यार्थी रोल नं.
दिनांक

अधिगम क्षेत्र : अवलोकन एवं दर्ज करना औसत ग्रेड :

प्रश्न 1. निम्न में से बोझा ढोने वाले साधनों में से कौनसा साधन बोझा ढोने के काम नहीं आता-

(अ) मालगाड़ी (ब) ट्रक (स) ऊंटगाड़ी (द) बस ()

प्रश्न 2. निम्न वस्तुओं में से कौनसी भिन्न है-

(अ)  (ब) 
(स)  (द)  ()

प्रश्न 3. दक्षिण भारत में खाये जाने वाले भोजन के नाम लिखिए-

.....

प्रश्न 4. नजरी नक्शा बनाते समय कौनसी बातों का ध्यान रखा जाना चाहिये

.....

.....

अधिगम क्षेत्र : सम्प्रेषण कौशल (अभिव्यक्ति)

औसत ग्रेड :

प्रश्न 1. दीपावली के दिन इस देवी की पूजा होती है

.....

प्रश्न 2. राजस्थान के कई क्षेत्रों में पानी की कमी क्यों है?

.....

प्रश्न 3. स्वामी विवेकानन्द जी किसे 'निवेदिता' नाम दिया

.....

अधिगम क्षेत्र : वर्गीकरण करना

औसत ग्रेड :

प्रश्न 1. निम्न में से कौनसा एक घर का प्रकार नहीं है—



(अ)



(ब)



(स)



(द)

()

प्रश्न 2. खेती का काम करने वाले लोग कहलाते हैं

.....

प्रश्न 3. बड़ा परिवार व छोटे परिवार में क्या अन्तर है?

.....

अथवा

नीचे दिये गए कार्यों को उनके करनेवालों के साथ मिलान कीजिए—

- | | |
|--|---------|
| 1. मरीजों का इलाज करने वाला | बढ़ई |
| 2. बच्चों को पढ़ाने का कार्य करने वाला | डॉक्टर |
| 3. लकड़ी का काम करने वाला | अध्यापक |

प्रश्न 4. आवास के आधार पर जानवरों का वर्गीकरण कीजिए—

.....
.....

अधिगम क्षेत्र : व्याख्या करना

औसत ग्रेड :

प्रश्न 1. पानी हमारे शरीर के लिए आवश्यक है क्योंकि—

(अ) भोजन को पचाने के लिए

(ब) शरीर से उत्सर्जित पदार्थ निकालने में

(स) शरीर के तापमान को नियंत्रित करने में

(द) उपरोक्त सभी

()

प्रश्न 2. पानी का दैनिक जीवन में क्या उपयोग है?

.....

प्रश्न 3. भोजन सम्बन्धी कोई दो अच्छी आदतें बताइये—

1.

2.

अधिगम क्षेत्र : प्रश्न करना

औसत ग्रेड :

प्रश्न 1. स्थलमार्ग पर चलने वाले कोई दो यातायात के साधनों के नाम लिखिये—

1. 2.

अधिगम क्षेत्र : प्रयोग करना

औसत ग्रेड :

प्रश्न 17. घर का चित्र बनाकर उसे रंगों से भरिये।

अधिगम क्षेत्र : न्याय एवं समता के प्रति सरोकार

औसत ग्रेड :

प्रश्न 1. आपके पिताजी के पिताजी को आप क्या कहते हैं?

(अ) दादाजी (ब) नानाजी (स) चाचाजी (द) मामाजी ()

प्रश्न 2. ईसाइयों का प्रमुख त्यौहार कौनसा है—

.....

अधिगम क्षेत्र : एक दूसरे के कार्यों का सम्मान एवं गुणों

की प्रशंसा करना

औसत ग्रेड :

प्रश्न 1. बच्चों को अच्छे संस्कार व पारिवारिक रिश्तों की जानकारी होती है—

(अ) एकल परिवार में (ब) संयुक्त परिवार में
(स) घर से दूर रहकर (द) इनमें से कहीं से भी नहीं ()

प्रश्न 2. सड़क पर चलते समय हमें किन नियमों का पालन करना चाहिए।

.....

.....

.....

.....